

Test de evaluare finală
Clasa a II-a - Matematică

Propunător: **prof. înv. primar, Spiridon Gabriela**
Școala Gimnazială "Mareșal Alexandru Averescu" Adjud, județul Vrancea

Rezolvă cerințele următoare!

Item 1

Citește cu atenție și completează cu numărul descoperit!
Sunt cel mai mic număr de trei cifre, cuprins între 100 și 200, scris cu cifre consecutive.


Item 2

Tudor trebuie să aleagă, dintre numerele date, pe cel care corespunde fiecărei afirmații.
Ajută-l tu, completând în locul lui!



- În numărul cifra zecilor este 4.
- În numărul cifra unităților este impară.
- În numărul cifra sutelor este egală cu cifra zecilor.

Item 3 Observă regula și numerotează căsuțele:



Item 4 Rotunjește la sute numerele, după modelul indicat:

Numărul	724	611	372	523	857
Rotunjit la sute	700				

Itemul 8

Unește cu o linie operația cu rezultatul obținut:

23 + 97	28
54 : 6	97
4 X 7	9
105 - 8	120

Itemul 9. Mihnea a construit un pătrat și un triunghi cu bețișoare de aceeași lungime.

Câte bețișoare a folosit Mihnea, în total ?

R:

Itemul 10.



Am rezolvat câte 5 probleme pe zi , timp de o săptămână și au mai ramas de rezolvat încă 9 probleme.

Alina a avut de rezolvatprobleme.

Alina

Poți efectua calculele în scris aici.

Itemul 11.

Completează enunțurile de mai jos cu unități de măsură corespunzătoare.

- Pentru a măsura lungimea unei camere vom folosi _____
- Pentru a măsura masa unui sac cu făină vom folosi _____
- Pentru a măsura capacitatea unui butoi cu vin vom folosi _____

Octombrie 2017

L	M	M	J	V	S	D
						1
2	3	4	5	6	7	8
9	10	11	12	13	14	15
16	17	18	19	20	21	22
23	24	25	26	27	28	29
30	31					

Itemul 12.

Privește fila de calendar, apoi răspunde la întrebări:

a) Câte zile de duminică are luna octombrie a anului 2017? _____

b) În ce zi a săptămânii este 14 octombrie?

c) Dacă astăzi este 2 octombrie, ce dată va fi peste o săptămână?

Itemul 13 .

O cantitate de 25 l de lapte se toarnă în bidoane de câte 5 l, iar altă cantitate de 18 l se toarnă în bidoane de 2 l fiecare.

Câte bidoane sunt necesare pentru tot laptele?

R:

Subliniază exercitiul corespunzător rezolvarii problemei:

- $25 : 5 - 18 : 2 =$
- $25 : 5 + 18 : 2 =$
- $25 : 5 + 18 + 2 =$
- $25 : 5 - 18 + 2 =$

Poți efectua calculele în scris aici.

Itemul 14

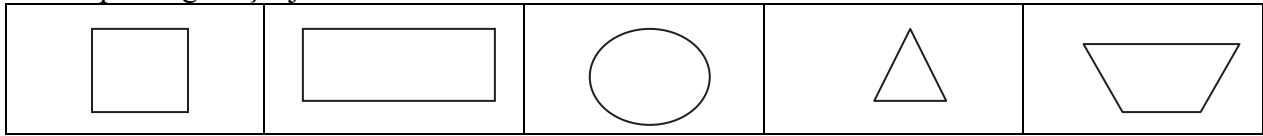
Silviu s-a jucat în parc 2 ore, de la ora 14 și 30 minute. La ce oră a ajuns acasă?

Poți efectua calculele în scris aici.

R:

Itemul 15

Elena a colorat dintre figurile geometrice doar pe cea care are toate laturi egale.
 Descoperă figura și ajut-o să coloreze!

**Itemul 16**

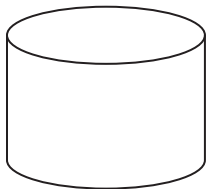
Priviți tabelul, apoi completați enunțurile următoare:

- clasa cu cei mai mulți elevi este clasa
- clasa cu cei mai puțini elevi este clasa
- a treia clasa ca număr de elevi este clasa

Clasa	Număr elevi
I	30
a II-a	32
a III-a	28
a IV-a	35

Itemul 17

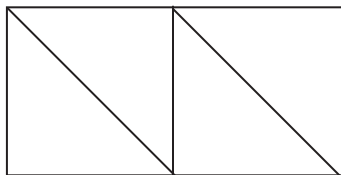
Încercuiește litera potrivită corpului geometric reprezentat:



- a) con
- b) cuboid
- c) cilindru
- d) cub

Itemul 18

Observă desenul și completează spațiile punctate cu numărul de figuri geometrice întâlnite :



- a) dreptunghiuri
- b) triunghiuri
- c)pătrate

Sugestii de răspuns

Item 1. Răspuns : **123**

Item 2. Răspuns :

- În numărul **546** cifra zecilor este 4.
- În numărul **851** cifra unităților este impară.
- În numărul **998** cifra sutelor este cifra sutelor este egală cu cifra zecilor.

Item 3. Răspuns : **130,127,124**

Item 4. Răspuns: 600, 400, 500, 900.

Item 5. Răspuns: 56 cărți

Item 6. Răspuns: **Ursulețul – 8 lei**

Iepurașul – 17 lei

Item 7. Răspuns: $1/4$, $2/3$, $3/4$.

Item 8. Răspuns:

$23 + 97$	→	28
$54 : 6$	→	97
4×7	→	9
$105 - 8$	→	120

Item 9. Răspuns: 7 **bețișoare**

Item 10. Răspuns: 44 probleme

Item 11. Răspuns:

- Pentru a măsura lungimea unei camere vom folosi **metrul**.
- Pentru a măsura masa unui sac cu făină vom folosi **kilogramul**.
- Pentru a măsura capacitatea unui butoi cu vin vom folosi **litrul**.

Item 12. Răspuns:

- a) Câte zile de duminică are luna octombrie a anului 2017? – **5 zile**
- b) În ce zi a săptămânii este 14 octombrie?- **sambata**
- c) Dacă astăzi este 2 octombrie, ce dată va fi peste o săptămână?- **9 octombrie**

Item 13. Răspuns: $25: 5 + 18 : 2 =$

Item 14. Răspuns: ora 16: 30

Item 15 . Răspuns:

Item 16. Răspuns:

- clasa cu cei mai mulți elevi este clasa a IV-a;
- clasa cu cei mai puțini elevi este clasa a III-a
- a treia clasă ca număr de elevi este clasa I.

Item 17. Răspuns: c) cilindru

Item 18. Răspuns:

- a) 1 dreptunghi
- b) 4 triunghiuri
- c) 2 pătrate