



CONCURSUL ȘCOLAR NAȚIONAL DE COMPETENȚĂ ȘI PERFORMANȚĂ COMPER



EDIȚIA 2016-2017 / ETAPA I – 27 ianuarie 2017

COMPER – MATEMATICĂ, CLASA I

- Toate subiectele sunt obligatorii.
- Timpul efectiv de lucru este de 90 de minute.
- Cerințele vor fi citite de învățător/supraveghetor.


Citește cu atenție enunțurile, apoi bifează în grilă răspunsurile corecte:

**STANDARD**

1. Vecinul mai mic al numărului 21 este:  
a. 20;                      b. 19;                      c. 22;                      d. 21.
2. Cea mai mare cifră impară este:  
a. 1;                      b. 7;                      c. 9;                      d. 8.
3. Următorul număr în șirul: **31, 29, 27, 25, 23, 21**, , este:  
a. 20;                      b. 18;                      c. 19;                      d. 17.
4. Numărul format din 2 zeci și 4 unități este:  
a. 14;                      b. 24;                      c. 42;                      d. 34.
5. Desenează câte două globulețe în fiecare brad. Câte globulețe ai desenat în total?  
a. 6;  
b. 9;  
c. 8;  
d. 7.
- 
6. Găsește „intrusul” de pe căciulița Moșului:  
  
a. 5;                      b. 4;                      c. 2;                      d. 8.
7. Rezultatul operației  $6 + 2$  este:  
a. 4;                      b. 8;                      c. 6;                      d. 9.
8. La colindat ai primit 5 nuci și 4 portocale. Câte fructe ai primit?  
a. 9;                      b. 8;                      c. 10;                      d. 7.
9. Numărul cu 5 mai mare decât 3 este:  
a. 8;                      b. 2;                      c. 7;                      d. 9.



10. Alege mărul pe care se află un număr par:

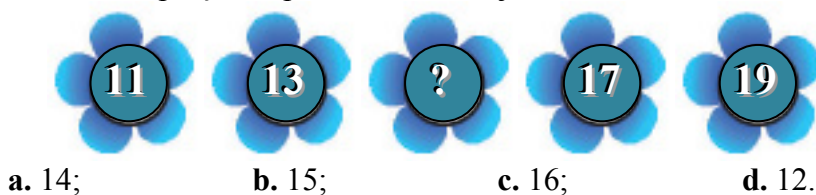


11. Numărul ascuns este:

- a. 2;  
b. 3;  
c. 5;  
d. 4.



12. Ce număr lipsește de pe floarea din mijloc?



13. Cel mai mare număr impar mai mic decât 19 este:

- a. 16; b. 18; c. 17; d. 19.

14. Ana are în buchet 2 lalele roșii, 3 lalele galbene și 4 lalele albe. Câte lalele are Ana în buchet?

- a. 5; b. 7; c. 6; d. 9.

15. Câte numere impare sunt mai mici decât 14?

- a. 7; b. 6; c. 8; d. 5.

16. Perechea de numere care adunate dau același rezultat cu  $5 + 4$  este:

- a. 2 și 6; b. 3 și 5; c. 7 și 2; d. 8 și 0.

**EXCELENȚĂ**

17. Felix își cântărește jucăriile astfel:



Un avion cântărește:

- a. cât o bărcuță; b. cât 2 bărcuțe; c. cât 3 bărcuțe; d. cât 4 bărcuțe.

18. - = 3

+ = 10

+ = 8

= ?

- a. 6;  
b. 4;  
c. 10;  
d. 9.